

PROVA OBJETIVA – OPÇÃO 2

CARGO: ASSISTENTE DE EDUCAÇÃO INFANTIL

Leia atentamente as INSTRUÇÕES:

1. Não é permitido ao candidato realizar a prova usando óculos escuros (exceto para correção visual ou fotofobia, desde que informe no ato da inscrição) ou portando: aparelhos eletrônicos, qualquer tipo de relógio, chaves e acessórios que cubram a cabeça e/ou rosto.
2. Caso o candidato porte algum dos itens mencionados anteriormente, antes do início das provas deverá acomodá-lo(s) **EMBAIXO DE SUA CADEIRA**, sob sua guarda e responsabilidade, mantendo o(s) aparelho(s) eletrônico(s) desligado(s), sob pena de ser eliminado deste Concurso Público.
3. Confira seus dados no cartão-resposta: nome, número de inscrição e o cargo para o qual se inscreveu.
4. Assine seu cartão-resposta.
5. Aguarde a autorização do Fiscal para abrir o caderno de provas. Ao receber a ordem do fiscal, confira o caderno de provas com muita atenção. Nenhuma reclamação sobre o total de questões ou falha de impressão será aceita depois de iniciada a prova.
6. O cartão-resposta não será substituído, salvo se contiver erro de impressão.
7. Preencha toda a área do cartão-resposta correspondente à alternativa de sua escolha, com caneta esferográfica (tinta azul ou preta), sem ultrapassar as bordas. As marcações duplas, ou rasuradas, com corretivo, ou marcadas diferentemente do modelo estabelecido no cartão-resposta poderão ser anuladas.
8. Sua prova tem **60** questões, com **4** alternativas.
9. Cabe apenas ao candidato a interpretação das questões, **o fiscal** não poderá fazer nenhuma interferência.
10. A prova será realizada com duração máxima de **4 (quatro) horas**, incluído o tempo para a realização da Prova Objetiva e o preenchimento do cartão-resposta.
11. O candidato poderá retirar-se do local de realização das provas somente **1 (uma) hora** após o seu início, sem levar o caderno de provas.
12. O candidato poderá levar o caderno de provas, assim como anotação contendo transcrição do seu cartão-resposta, somente 2h (duas horas) após o início da realização das provas.
13. Ao terminar a prova, o candidato deverá entregar ao fiscal de sala o cartão-resposta preenchido e assinado.
14. Os **3 (três)** candidatos, que terminarem a prova por último, deverão permanecer na sala, e só poderão sair juntos após o fechamento do envelope, contendo os cartões-resposta dos candidatos presentes e ausentes, e assinarem no lacre do referido envelope, atestando que este foi devidamente lacrado.
15. Durante todo o tempo em que permanecer no local onde está ocorrendo o concurso, o candidato deverá, manter o celular desligado e sem bateria, só sendo permitido ligar depois de ultrapassar o portão de saída do prédio.
16. Não será permitido ao candidato fumar na sala de provas, bem como nas dependências.
17. Ao término da prova, o candidato deverá se retirar do recinto onde está ocorrendo o certame, não lhe sendo mais permitido o uso do banheiro e bebedouro.

BOA PROVA!

LÍNGUA PORTUGUESA

As próximas três questões referem-se ao seguinte texto:

Desafinando. (Antônio Carlos Jobim).

Quando eu vou cantar você não deixa
E sempre vem a mesma queixa
Diz que eu desafino, que eu não sei cantar
Você é tão bonita
Mas toda beleza
Também pode se acabar.

Se você disser que eu desafino, amor
Saiba que isso em mim provoca imensa dor
Só privilegiados têm ouvido igual ao seu
Eu possuo apenas o que Deus me deu
Se você insiste em classificar
Meu comportamento de antimusical
Eu, mesmo mentindo, devo argumentar
Que isto é Bossa Nova
Que isto é muito natural
O que você não sabe, nem sequer pressente
É que os desafinados também têm um coração
Fotografei você na minha Rolleiflex
Revelou-se a sua enorme ingratidão.

Só não poderá falar assim do meu amor
Este é o maior que você pode encontrar, viu
Você com a sua música esqueceu o principal
Que no peito dos desafinados
No fundo do peito bate calado
Que no peito dos desafinados
Também bate um coração.

01. Leia os itens e assinale a opção correta:

I - O conflito entre o músico de um novo estilo, Bossa Nova, e os críticos de música daquela época (fins dos anos 1950), já ocorre no início da música: “Quando eu vou cantar/Você não deixa.”

II - Em “Se você insiste em classificar/Meu comportamento de antimusical/Eu, mesmo mentindo, devo argumentar/Que isto é Bossa Nova/Que é muito natural,” o músico tenta explicar seu novo estilo musical.

III - Quando o músico diz que a canção é Bossa Nova e que ela é muito natural, ele fala a verdade, fazendo uso de uma música próxima à fala.

IV - Rolleiflex, no texto, é uma palavra que tem o sentido de máquina fotográfica.

V - Os versos “Você é tão bonita/Mas toda beleza/Também pode se acabar;” mostram a certeza, a harmonia, a paz, vividas pelo casal.

- a) Apenas I, II, III e IV estão corretos.
- b) Apenas I, II, III e V estão corretos.
- c) Apenas I, II, IV e V estão corretos.
- d) Apenas I, III, IV e V estão corretos.

02. Releia os primeiros versos, “Quando eu vou cantar você não deixa/E sempre vem a mesma queixa.”

Assinale a alternativa onde temos, na sequência, um advérbio de negação, outro de tempo e um pronome demonstrativo.

- a) Não, sempre, você.
- b) Não, sempre, mesma.
- c) Não, quando, eu.
- d) Quando, sempre, você.

03. Os versos a seguir também fazem parte da canção “Desafinado.”, releia-os.

Se você disser que eu desafino amor/Saiba que isso em mim provoca imensa dor.

A conjunção se indica uma

- a) consequência.
- b) concessão.
- c) condição.
- d) conformidade.

04. Marque a opção onde temos uma função referencial, informativa ou cognitiva:

- a) Alô, alô, não desligue, não, meu amor, ouviu?
- b) Você acha que o mundo possa um dia viver em paz?
- c) Meu maior sonho é ver o mundo viver em paz.
- d) O Sol é o centro do nosso sistema planetário.

05. “O ponto e vírgula denota uma pausa mais sensível que a vírgula e emprega-se principalmente para separar orações coordenadas de certa extensão; enumerações; para separar os considerandos de um decreto, de uma sentença, de uma petição; para separar os itens de um artigo de lei, de um regulamento etc”.

Sendo assim, é falsa a pontuação do ponto e vírgula na alternativa:

- a) Astrônomos já tentaram estabelecer contato com seres extraterrestres; suas tentativas, porém, foram infrutíferas.
- b) “Depois Iracema quebrou a flecha homicida; deu a haste ao desconhecido, guardando consigo a ponta farpada”. (José de Alencar).
- c) “Não se disse mais nada; mas de noite Lobo Neves insistiu no projeto.” (Machado de Assis).
- d) Destacaram-se na Inconfidência Mineira, Joaquim José da Silva Xavier, alcunhado Tiradentes; os poetas Cláudio Manoel da Costa e Tomás Antônio Gonzaga.

06. Nossa língua pode ser falada e escrita. Na língua falada, as palavras se constituem de fonemas; na língua escrita, as palavras são reproduzidas por meio de símbolos gráficos, a que se dá o nome de letras ou grafemas. Nem sempre as palavras apresentam número idêntico de letras e de fonemas. Sendo assim, veja os itens e assinale a alternativa correta:

I - Estudando: (9 letras e 8 fonemas).

II - Humor: (5 letras e 4 fonemas).

III - Sentimentos: (11 letras e 9 fonemas).

IV - Prevenção: (9 letras e 8 fonemas).

V - Quilo: (5 letras e 5 fonemas).

- a) Apenas I, II, III e V estão corretos.
- b) Apenas I, II, III e IV estão corretos.
- c) Apenas II, III, IV e V estão corretos.
- d) Apenas III, IV e V estão corretos.

07. Marque a opção correta quanto à ocorrência da crase.

- a) O menino matou o gato à pauladas.
- b) A aluna enviou os documentos à Secretaria, que os encaminhou a Diretoria.
- c) Os guardas ficaram à distância de cem metros.
- d) Os animais, no zoológico, ficam à distância.

08. Passando para o plural os substantivos compostos “o puro-sangue” e “mesinha-de-cabeceira,” a opção correta é:

- a) Os puros-sangue / mesinhas-de-cabeceiras
- b) Os puro-sangues / mesinhas-de-cabeceira
- c) Os puros-sangues / mesinhas-de-cabeceiras
- d) Os puros-sangues / mesinhas-de-cabeceira

09. Assinale a alternativa em que a palavra “a” tem valor gramatical diferente de todas as outras.

- a) Ela veio a reclamar conosco.
- b) Lucas é a paz.
- c) Pediu a companhia da mãe.
- d) É ela quem te machuca a alma toda.

10. Os ordinais referentes aos números 17, 100, 500 e 900 são, respectivamente:

- a) Décimo sete, cem, quingentésimo, nongentésimo.
- b) Dezessete, centésimo, quingentésimo, nongentésimo.
- c) Décimo sete, centésimo, quingentésimo, nongentésimo.
- d) Décimo sete, centésimo, quinhentos, noningentésimo.

11. Assinale a alternativa que preenche, correta e respectivamente, as lacunas nos enunciados abaixo:

I - Ficara proibida a do teatro municipal para entidades privadas.

II - Com o clima seco, nem dá para.....

III - Ninguém pode ignorar a ganância dessa pessoa.

- a) secção / soar / vultuosa
- b) cessão / suar / vultosa
- c) cessão / soar / vultosa
- d) seção / suar / vultuosa

12. Assinale a opção em que os verbos foram empregados de acordo com a norma culta.

- a) O pai nunca vem a casa e quando o fazia, era para buscar dinheiro.
- b) Todo recurso disponível já foi gastado pelo irmão.
- c) Vós amaste a vida inteira.
- d) A menina chorava, mas não o fazia com muita vontade.

13. Normalmente, a negação é expressa por meio de advérbios ou locuções adverbiais. Entretanto, há outras maneiras de negar. Aponte a opção em que, no enunciado, não há ideia de negação.

- a) O que a escola tem pedido, agora, é que o aluno não só participe da aula, mas também das atividades culturais.
- b) Volte logo, não demore.
- c) Infelizmente não chegamos a tempo.
- d) O Brasil não está crescendo econômica, política e socialmente.

14. Qual a única alternativa que indica uma causa?

- a) Nada enfurece tanto o homem como a verdade.
- b) Como hoje é Natal, oremos!
- c) Como vocês todos sabem, o Brasil é o maior produtor mundial de mamona.
- d) Que seja tudo como Deus quiser!

15. Assinale a opção que apresenta erro quanto à divisão silábica.

- a) Sa-í-da / rei / po-lí-cia.
- b) Ré-gu-a / in-con-ci-li-a-ção / fu-ne-rá-ria.
- c) Fun-di-á-rio / in-tem-pé-rie / po-ten-cia-ção.
- d) Cres-ci-do / can-tei-ro / re-cu-a-do.

16. Marque a alternativa em que ocorre erro ortográfico.

- a) Pôr (verbo) e por (preposição).
- b) Pôde (passado) e pode (presente).
- c) Ele tem e eles têm.
- d) Ele contem e eles conteem.

17. Assinale a alternativa em que os pronomes oblíquos átonos estão colocados na oração de acordo com a norma culta.

- a) Falaram-me para sair.
- b) Me acorde amanhã.
- c) Não conte-lhe tal tragédia.
- d) Tinha iniciado-se a contagem dos votos.

18. Em “Vozes veladas, veludas vozes/ Volúpias dos vilões, vozes veladas/ Vagam nos velhos vórtices velozes/ Dos ventos, vivas, vãs, vulcanizadas,” nota-se a repetição dos mesmos sons consonantais. Essa figura de linguagem é conhecida como

- a) Metáfora
- b) Aliteração
- c) Metonímia
- d) Antonomásia

19. Relacione as colunas e, a seguir, assinale a opção correspondente:

1 - Hipérbole

2 - Antítese

3 - Metáfora

4 - Prosopopeia

5 - Catacrese

6 - Hipálage

I - “Minha vida era um palco iluminado.”

II - “E na distância morro todo dia.”

III - “Ela é rica e eu sou pobre, eu sou plebeu e ela é nobre.”

IV - “Choravam as águas do rio, a caminho do mar.”

- a) I - 5, II - 6, III - 2, IV - 4.
- b) I - 3, II - 5, III - 2, IV - 1.
- c) I - 3, II - 1, III - 2, IV - 4.
- d) I - 3, II - 1, III - 5, IV - 6.

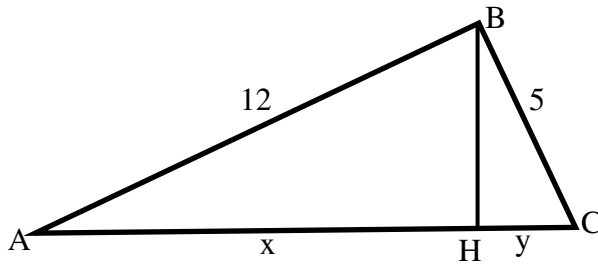
20. Assinale a alternativa onde temos sequencialmente, ditongo, hiato e tritongo.

- a) Aula, rua, fui.
- b) Ódio, país, herói.

- c) Pão, saúde, feio.
- d) Sério, tia, quais.

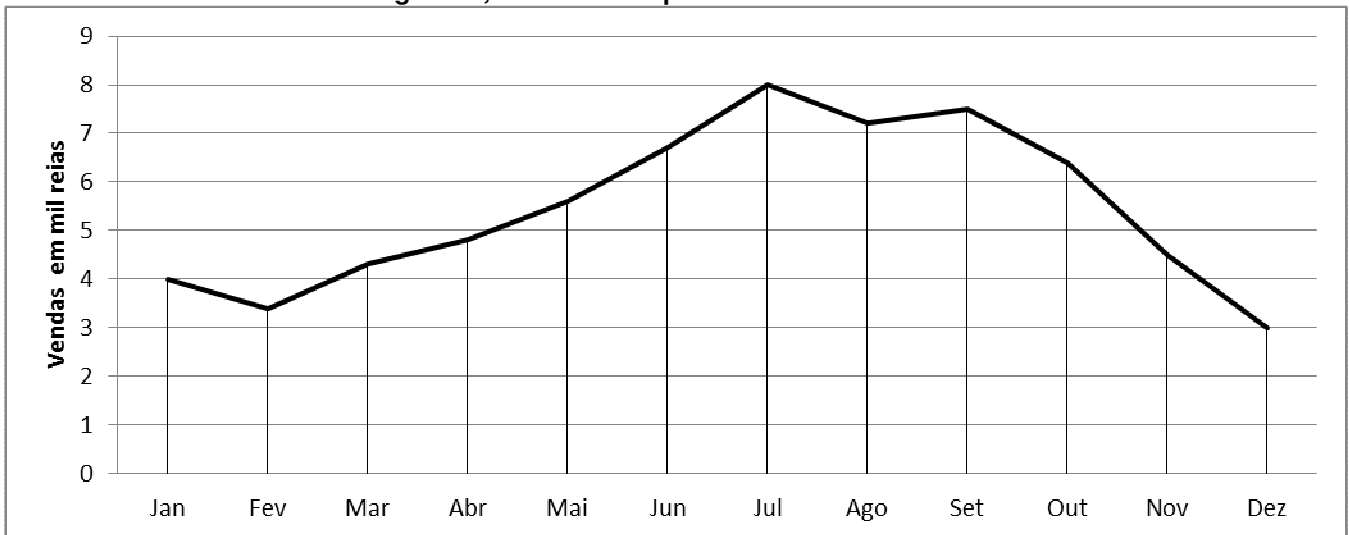
MATEMÁTICA

21. Considerando o triângulo retângulo em B, a seguir, e sendo BH a altura relativa ao lado AC, é correto afirmar que x.y vale:



- a) $\frac{1}{13}$
- b) $\frac{3600}{169}$
- c) $\frac{3600}{13}$
- d) 13

22. Luísa possui uma loja de lã e fios para tricô, e fez o gráfico a seguir sobre as vendas de sua loja durante um ano. Analisando o gráfico, concluímos que:



- a) Depois de Julho, as vendas só decaíram.
- b) No mês de Agosto, foi o mês em que a loja teve maior faturamento.
- c) O mês com menor faturamento foi o de Fevereiro.
- d) Dos meses de Fevereiro a Julho, as vendas só aumentaram.

23. Marcio aplicou R\$20.000,00 a juros simples durante 5 anos e, no final, obteve um montante de R\$32.000,00. A que taxa mensal ele aplicou o seu dinheiro?

- a) 10% a.m.
- b) 1% a.m.
- c) 0,1% a.m.
- d) 0,01% a.m.

24. O conjunto solução da equação: $27^{x-3} = \frac{1}{9}$ é:

- a) $\frac{7}{3}$
- b) $\frac{11}{3}$
- c) $\frac{5}{3}$
- d) 3

25. Calcule o valor de m, sabendo que -2 é raiz da equação $x^3 - 3x^2 + mx + 8 = 0$

- a) -6
- b) -2
- c) 2
- d) 6

26. Seja a matriz $A = [1 \ 2 \ 4 \ 8 \ 16]$. A sua notação implícita está na alternativa:

- a) $A = (a_{ij})_{5 \times 1}$, $a_{ij} = 2^{i-1}$
- b) $A = (a_{ij})_{5 \times 1}$, $a_{ij} = 2^{i-1}$
- c) $A = (a_{ij})_{1 \times 5}$, $a_{ij} = 2^{i-1}$
- d) $A = (a_{ij})_{1 \times 5}$, $a_{ij} = 2^{i-1}$

27. Calcule o valor de $A = \frac{\cos \frac{\pi}{3} + 4 \operatorname{sen} \frac{\pi}{3} - 2 \cos \frac{\pi}{6} + \operatorname{sen} \frac{\pi}{6}}{\operatorname{sen} \frac{3\pi}{2}}$

- a) -1
- b) 0
- c) 1
- d) 2

28. As diagonais de um losango de área 32 cm^2 estão na razão $1:4$. Qual é o valor da soma dessas diagonais?

- a) 4
- b) 12
- c) 16
- d) 20

29. O valor de $N = \log_2 2 + 2 \log_3 27 - 2 \log 100 - \log_5 125$ é:

- a) -1
- b) 0
- c) 1
- d) 2

30. Sejam $A = \{0, 1, 2, 5, 6, 8\}$ e $B = \{2, 3, 5, 7, 8, 11\}$. É correto afirmar que:

- a) $A - B = \{0, 1, 6\}$
- b) $A - B = \{2, 5, 8\}$
- c) $B - A = \{0, 1, 6\}$
- d) $B - A = \{2, 5, 8\}$

CONHECIMENTOS GERAIS E ATUALIDADES

31. A população de Passo Fundo, RS, pelo Censo do IBGE de 2010 (Fonte: <http://cidades.ibge.gov.br/xtras/perfil.php?lang=&codmun=431410&search=rio-grande-do-sul|passo-fundo>) era:

- a) superior à população do município de Rio Grande, RS.
- b) inferior a 200.000 habitantes.
- c) inferior à população do município de Bagé, RS.
- d) superior a 200.000 habitantes

32. No mundo da informática, várias expressões foram incorporadas à linguagem dos usuários de computadores. Um desses vocábulos foi "Windows", cujo significado está basicamente associado a

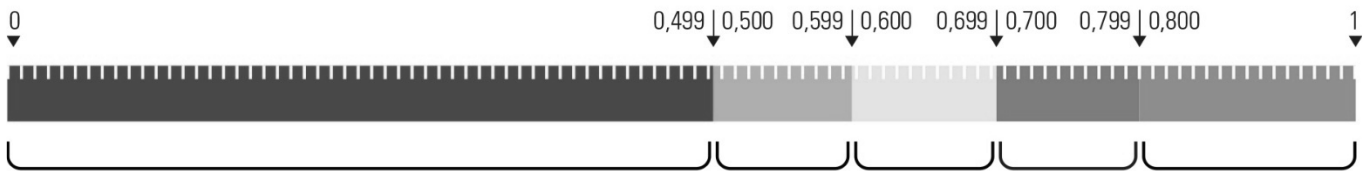
- a) um sistema operacional.
- b) um link de buscas.
- c) um algoritmo de programação.
- d) um site de pesquisas.

33. O juiz da 13ª Vara Federal Criminal de Curitiba ganhou notoriedade à frente das investigações da Operação Lava-Jato. Qual é o nome completo desse juiz?

- a) Joaquim Barbosa Moro
- b) Sérgio Fernando Moro
- c) Rodrigo Sérgio Moro
- d) Sérgio Janot Moro

34. Observe a escala abaixo. Ela apresenta as faixas de classificação do IDHM:

Faixas de Desenvolvimento Humano Municipal



Segundo o site oficial do IBGE, o IDHM (Índice de Desenvolvimento Humano Municipal) de Passo Fundo, RS, apresentou diferentes índices em 1991, 2000 e 2010. (Fontes: Atlas Brasil 2013 Programa das Nações Unidas para o Desenvolvimento e <http://cidades.ibge.gov.br/xtras/temas.php?lang=&codmun=431410&idtema=118&search=rio-grande-do-sul|passo-fundo|C3%8Dndice-de-desenvolvimento-humano-municipal-idhm->).

Com base no gráfico acima, os índices apresentados nesses respectivos anos foram:

- a) Muito baixo, baixo e médio.
- b) Baixo, médio e muito alto.
- c) Muito baixo, médio e alto.
- d) Baixo, alto e alto.

35. A revista Veja publicou em meados de 2016 a reportagem “Educação Básica faz Brasil cair no ranking internacional”. (Fonte: <http://veja.abril.com.br/educacao/educacao-basica-faz-brasil-cair-em-ranking-internacional/>) A seguir, apresenta-se parte do artigo publicado pela revista, com algumas adaptações:

“A baixa qualidade da educação básica brasileira fez com que o país perdesse cinco posições na última edição do ‘Relatório sobre o Capital Humano’, estudo anual do Fórum Econômico Mundial, divulgado na terça-feira. O Brasil ficou numa humilhante posição, entre os 130 países pesquisados, com uma pontuação de 64,51, o que significa que mais de 35% do capital humano brasileiro permanece subdesenvolvido”.

A posição do Brasil nessa classificação, entre as 130 nações, ordenadas da melhor qualidade da educação para a pior, foi a:

- a) 49ª posição.
- b) 52ª posição.
- c) 83ª posição.
- d) 99ª posição.

36. O adjetivo gentílico indica a naturalidade de uma pessoa, ou seja, refere-se à cidade, estado ou país de origem de um ser. Assim, o gentílico de quem nasce no Estado de São Paulo é paulista, de quem nasce na cidade de São Paulo é paulistano. Quais são os respectivos gentílicos para os gaúchos nascidos, respectivamente em Caçapava do Sul, Montenegro e Westfália?

- a) Caçapavense, montenegrino e westfaliense.
- b) Caçapavano, montenegrino e westfaliano.
- c) Caçapavense, montenegrino e westfalianense.
- d) Sul caçapavense, negromontino e westfalino.

37. Nesse processo econômico e social há o estabelecimento de uma integração entre os países e as pessoas do mundo todo. Pessoas, os governos e as empresas trocam ideias, realizam transações financeiras e comerciais e espalham aspectos culturais pelos quatro cantos do planeta. Qual nome está associado ao conceito de um conjunto dessas transformações na ordem política e econômica mundial, visíveis desde o final do século XX? Trata-se de um fenômeno que criou pontos em comum na vertente econômica, social, cultural e política, e que conseqüentemente tornou o mundo interligado.

- a) Tratado Intercontinental
- b) Globalização
- c) Imperialismo
- d) Colonialismo

38. Abaixo é apresentado, sem a coloração original, o brasão oficial do Município de Passo Fundo, porém com algumas alterações. Na faixa inferior do escudo, as palavras que deveriam fazer parte do brasão foram substituídas pelos números 1, 2 e 3.



Os números 1, 2 e 3, da esquerda para a direita, correspondem, respectivamente, às palavras:

- a) FRATERNIDADE, TRABALHO E PROGRESSO.
- b) PROGRESSO, FRATERNIDADE E TRABALHO.
- c) PROGRESSO, TRABALHO E FRATERNIDADE.
- d) TRABALHO, FRATERNIDADE E PROGRESSO.

39. Foi anunciado, em outubro de 2016, o ganhador do Prêmio Nobel de Literatura 2016. A escolha foi divulgada em um evento em Estocolmo, na Suécia. Surpreendentemente, o ganhador foi alguém que se notabilizou mais no mundo da música que propriamente no literário. Quem foi esse artista contemplado com tão importante prêmio?

- a) Bob Dylan
- b) Paul McCartney
- c) David Bowie
- d) Prince

40. O Estado do Rio Grande do Sul tem 281.737,94 km², incluindo 10.152,408 km² e 2.832,194 km² referentes às lagoas dos Patos e Mirim, respectivamente, incorporadas à área do estado segundo a Constituição Estadual de 1988, não constituindo área municipal.

Qual afirmação abaixo é correta, quanto às áreas geográficas comparadas entre unidades federativas, segundo dados oficiais do IBGE (<http://www.ibge.gov.br/home/geociencias/areaterritorial/principal.shtm>)?

- a) O Estado do Rio Grande do Sul tem uma área maior que o Estado do Maranhão.
- b) O Estado do Paraná tem uma área maior que o Estado do Rio Grande do Sul.
- c) O Estado do Rio Grande do Sul tem uma área maior que o Estado de São Paulo.
- d) O Estado da Bahia tem uma área menor que o Estado do Rio Grande do Sul.

41. Observe a imagem abaixo:



Nessa imagem, as duas mascotes das Olimpíadas do Rio de Janeiro foram definidas oficialmente para representar os jogos Olímpicos e Paralímpicos. Sobre as mascotes, qual das afirmações abaixo é correta?

- a) A mascote da direita é o Tom e refere-se aos Jogos Olímpicos.
- b) A imagem da esquerda é o Tom e refere-se aos Jogos Paralímpicos.
- c) A mascote da direita é o Vinicius e refere-se aos Jogos Paralímpicos.
- d) A mascote da esquerda é o Vinicius e refere-se aos Jogos Olímpicos.

42. Uma importante descoberta científica foi anunciada em fevereiro de 2016. Cientistas do mundo inteiro comemoraram essa descoberta, pois há décadas inúmeras pesquisas científicas tentavam obter

resultados teóricos que intrigavam os pesquisadores de muitos países. Qual foi essa grande descoberta de nosso tempo?

- a) A presença de reservas de ouro em Marte.
- b) A terapia que cura o câncer no pâncreas.
- c) A existência de ondas gravitacionais.
- d) A descoberta de outro planeta com vida.

43. Conforme o site oficial do município, sem considerarmos a vigência do horário de verão (<http://www.pmpf.rs.gov.br/secao.php?t=11&p=325>), Passo Fundo apresenta fuso horário de:

- a) -3 horas em relação ao meridiano de Greenwich
- b) -2 horas em relação ao meridiano de Greenwich
- c) +3 horas em relação ao meridiano de Greenwich
- d) +2 horas em relação ao meridiano de Greenwich

44. A imagem chocante, abaixo, ilustra o drama dos refugiados que tentam chegar à Europa a qualquer custo. A fotógrafa Nilufer Demir foi quem registrou, em 2015, a imagem do menino Aylan Kurdi, de apenas 3 anos, morto na praia de Bodrum, na Turquia.



Qual era a nacionalidade do menino morto?

- a) Síria
- b) Turca
- c) Líbia
- d) Israelense

45. A cidade de Chapecó, em Santa Catarina, estava pronta para uma festa com as finais da Copa Sul-americana, mas amanheceu com a notícia da tragédia de uma fatídica terça-feira de novembro de 2016. O mundo esportivo foi abalado com esse desastre aéreo que vitimou, entre outras pessoas, atletas da Chapecoense. Em que país ocorreu essa tragédia?

- a) Peru
- b) Bolívia
- c) Colômbia
- d) Venezuela

CONHECIMENTOS DE LEGISLAÇÃO

À luz da Lei Orgânica do Município de Passo Fundo/RS, responda às próximas sete questões.

46. Além das atribuições fixadas em lei ordinária, compete aos Secretários do Município:
I - Orientar, coordenar e executar as atividades dos órgãos e entidades da administração municipal, na área de sua competência.

II - Referendar os atos e decretos do Prefeito e expedir instruções para a execução das leis, decretos e regulamentos relativos aos assuntos de suas secretarias.

III - Apresentar ao Prefeito relatório anual dos serviços realizados por suas secretarias.

IV - Comparecer à Câmara Municipal, nos casos previstos nesta Lei Orgânica.

V - Praticar os atos pertinentes às atribuições que lhes forem delegadas pelo Prefeito.

É correto afirmar que:

- a) Os itens I e II estão incorretos.
- b) Apenas os itens II e IV estão corretos.
- c) O único item incorreto é o V.
- d) Todos os itens estão corretos.

47. Das alternativas abaixo, assinale a que menciona o Conselho não existente dentre os citados no art. 120.

- a) Conselho Municipal da Mulher
- b) Conselho Municipal da Criança, do Adolescente e do Idoso
- c) Conselho Municipal de Desenvolvimento Integrado
- d) Conselho Municipal de Habitação

48. Ainda sobre os Conselhos Municipais, julgue as afirmativas com C (certo) e E (errado) e assinale a alternativa correta.

() As atribuições de cada conselho, bem como a sua organização, composição, funcionamento, forma de nomeação do titular e suplente, e prazo de duração do mandato serão especificados em lei ordinária.

() Os membros dos conselhos de assessoramento serão remunerados e os seus serviços serão considerados de relevância pública.

() As decisões dos Conselhos Municipais, uma vez homologadas pelo Prefeito, terão execução obrigatória.

- a) C – E – C
- b) C – C – C
- c) E – E – C
- d) E – C – C

49. A política agrícola será planejada e executada na forma da lei federal, com a participação efetiva do setor de produção, envolvendo produtores e trabalhadores rurais, bem como dos setores de comercialização, de armazenamento e de transporte.

Acerca disso, assinale a alternativa que contém a soma exata dos itens corretos.

11 - Incluem-se no planejamento agrícola as atividades agroindustriais, agropecuárias, pesqueiras e florestais.

23 - Compete ao Município administrar os recursos florestais, os resíduos agrícolas, a produção de carburantes, as pequenas quedas d'água próprias para a geração de energia elétrica, e desenvolver o aproveitamento de energia eólica e outras formas da energia alternativa.

27 - É obrigatório o cadastramento, na Secretária Municipal da Agricultura, dos proprietários de terras que compõem a bacia hidrográfica de captação d'água para consumo da população.

29 - O Município, diretamente ou em consórcio com outros municípios, estimulará a criação de centrais de compra para abastecimento de microempresas, microprodutores rurais e empresas de pequeno porte, com vistas à diminuição do preço final das mercadorias e produtos na venda ao consumidor.

- a) 63
- b) 67
- c) 79
- d) 90

50. No que diz respeito ao Poder Executivo, assinale a alternativa incorreta.

a) Só o brasileiro, maior de dezoito anos, no pleno exercício dos seus direitos políticos, poderá ser eleito Prefeito ou Vice-Prefeito, sendo inelegíveis aqueles que forem assim considerados na Lei Federal.

b) O Prefeito e o Vice-Prefeito serão eleitos para um mandato de quatro anos, devendo a eleição realizar-se até noventa dias antes do término do mandato daqueles a quem devam suceder, simultaneamente com os Vereadores.

c) O Poder Executivo é exercido Prefeito, auxiliado pelos Secretários do Município.

d) O Prefeito e Vice-Prefeito não podem exercer outra função pública, nem tomar parte em qualquer organização privada que mantenha transações ou contratos com o Município.

51. O Município poderá instituir os seguintes tributos:

I – Impostos.

II – Taxas diferenciadas por zonas, em razão do exercício do poder de polícia ou pela utilização, efetiva ou potencial, dos serviços públicos específicos e divisíveis, prestados ao contribuinte ou postos à sua disposição e dos vazios urbanos.

III – Contribuição de melhoria, decorrente de obras públicas.

É correto afirmar que:

- a) Apenas o item I está incorreto.
- b) Apenas o item II está incorreto.
- c) Apenas o item III está correto.
- d) Todos os itens estão corretos.

52. Sobre as limitações no poder de tributar, assinale a alternativa incorreta.

a) É vedado ao Município exigir ou aumentar tributo mesmo que a lei estabeleça.

b) É vedado ao Município instituir tratamento desigual entre contribuintes que se encontrem em situação equivalente, proibida qualquer distinção em razão de ocupação profissional ou função por ele exercida, independente da denominação jurídica dos rendimentos, títulos e direitos.

- c) É vedado ao Município cobrar tributo em relação a fatos geradores antes da vigência da lei que houver instituído ou aumentado o tributo.
- d) É vedado ao Município cobrar tributo no mesmo exercício financeiro em que haja sido publicada a lei que o institui ou aumentou.

53. No que diz respeito à educação, e de acordo com o Estatuto da Criança e do Adolescente, julgue as afirmativas com C (certo) e E (errado) e assinale a alternativa correta.

() O poder público estimulará pesquisas, experiências e novas propostas relativas a calendário, seriação, currículo, metodologia, didática e avaliação, com vistas à inserção de crianças e adolescentes excluídos do ensino fundamental obrigatório.

() No processo educacional respeitar-se-ão os valores culturais, artísticos e históricos próprios do contexto social da criança e do adolescente, garantindo-se a estes a liberdade da criação e o acesso às fontes de cultura.

() Os municípios, com apoio dos estados e da União, estimularão e facilitarão a destinação de recursos e espaços para programações culturais, esportivas e de lazer voltadas para a infância e a juventude.

- a) E – C – C
b) C – C – C
c) C – E – E
d) C – C – E

À luz da Lei Complementar nº 203/2008 – Regime Jurídico dos Servidores Públicos Municipais de Passo Fundo/RS, responda às próximas duas questões.

54. No que diz respeito à posse, assinale a alternativa incorreta.

- a) Posse é o ato pelo qual a pessoa é investida no cargo público.
- b) Haverá posse nos casos de readaptação e reintegração.
- c) A posse ocorre mediante a assinatura, pela autoridade competente e pelo servidor, do termo de posse pelo qual este se compromete a observar fielmente os deveres e atribuições do cargo e da especialidade, bem como às exigências deste Estatuto e do edital do concurso público.
- d) Na ocasião da posse, o servidor declarará se exerce ou não outro cargo ou função pública remunerada, inclusive emprego em autarquias, empresas públicas, fundações públicas, associações públicas e sociedades de economia mista.

55. Concernente à estabilidade, assinale a alternativa correta.

- a) O servidor nomeado para cargo de provimento efetivo, em virtude de concurso público, adquire estabilidade após 24 (vinte e quatro) meses de efetivo exercício e aprovação na avaliação probatória prevista nesta Lei.
- b) A estabilidade diz respeito ao serviço público como também ao cargo.
- c) A avaliação probatória é o instrumento legal pelo qual serão avaliadas a aptidão e a capacidade demonstrada no trabalho pelo servidor nomeado para cargo de provimento efetivo em cumprimento do estágio probatório.
- d) O servidor estável não perderá o cargo.

56. Preencha as lacunas de acordo com o § 1º do art. 211 da Constituição Federal e assinale a alternativa correta.

"A União organizará o sistema _____ de ensino e o dos Territórios, _____ as instituições de ensino públicas federais e exercerá, em matéria educacional, função _____ e supletiva, de forma a garantir equalização de oportunidades educacionais e padrão mínimo de qualidade do ensino mediante assistência técnica e financeira aos Estados, ao Distrito Federal e aos Municípios."

- a) federal / financiará / redistributiva
b) municipal / auxiliará / contributiva
c) privativo / prestará contas / atributiva
d) primário / atenderá / executiva

57. Conforme a Lei nº 5.010/2013, o Programa de alimentação compreende a percepção de auxílio alimentação no valor diário de R\$ 18,43 (dezoito reais e quarenta e três centavos), a ser pago em pecúnia, ou através de contratação de empresa especializada para o fornecimento de vale-alimentação, no dia 15 (quinze) de cada mês, e calculado por dia de trabalho exercido de segunda à sexta-feira. Acerca disso, é incorreto afirmar:

- a) Os servidores que exercerem atividades em sábados, domingos e feriados não farão jus ao auxílio alimentação.
- b) Não fará jus à percepção do auxílio alimentação o servidor que faltar ao serviço, ainda que em razão de compensação de horário, de atestado médico, de férias, de licença saúde, licença maternidade, paternidade e adotante, licença prêmio, ou de outros afastamentos.
- c) Para efeitos dessa Lei, o afastamento por acidente de trabalho será considerado como dia efetivamente trabalhado, fazendo jus o servidor ao pagamento do benefício na proporção dos dias úteis verificados no respectivo período de afastamento.
- d) O recebimento de diária afasta o direito de percepção de auxílio alimentação.

À luz da Lei nº 9.394/1996, responda às próximas duas questões.

58. Segundo o art. 17, os sistemas de ensino dos Estados e do Distrito Federal compreendem:

I - As instituições de ensino mantidas, respectivamente, pelo Poder Público estadual e pelo Distrito Federal.

II - As instituições de ensino mantidas pela União.

III - As instituições de educação superior mantidas pelo Poder Público municipal.

IV - As instituições de ensino fundamental e médio criadas e mantidas pela iniciativa privada.

V - Os órgãos de educação estaduais e do Distrito Federal, respectivamente.

É correto afirmar:

- a) Apenas os itens I e III estão corretos.
- b) O único item incorreto é o II.
- c) Apenas o item V está correto.
- d) Todos os itens estão corretos.

59. A educação de jovens e adultos será destinada àqueles que não tiveram acesso ou continuidade de estudos no ensino fundamental e médio na idade própria. Acerca disso, julgue as afirmativas com C (certo) ou E (errado).

() Os sistemas de ensino assegurarão gratuitamente aos jovens e aos adultos, que não puderam efetuar os estudos na idade regular, oportunidades educacionais apropriadas, consideradas as características do alunado, seus interesses, condições de vida e de trabalho, mediante cursos e exames.

() O Poder Público viabilizará e estimulará o acesso e a permanência do trabalhador na escola, mediante ações integradas e complementares entre si.

() A educação de jovens e adultos deverá articular-se, preferencialmente, com a educação profissional, na forma do regulamento.

- a) E – C – C
- b) E – E – C
- c) C – C – C
- d) C – C – E

60. De acordo com a Resolução nº 21 de 02/04/2014, os espaços internos e externos deverão ser organizados de maneira que viabilizem o funcionamento dos diversos setores e propiciem a aprendizagem e o desenvolvimento da criança. No que diz respeito ao espaço físico, assinale a alternativa incorreta.

a) Nas escolas que oferecem outros níveis de ensino, a praça de brinquedos e os espaços destinados à Educação Infantil devem ser de uso exclusivo. No entanto, a área ao ar livre e área coberta pode ser compartilhada desde que a ocupação se dê em horários diferenciados.

b) Os espaços físicos devem favorecer o desenvolvimento da criança de 0 à 5 anos, respeitadas as necessidades de proteção e segurança.

c) As turmas de Educação Infantil, que compartilham espaços em escolas de Ensino Fundamental e/ou Médio, deverão ter seus espaços de uso exclusivo, podendo ser compartilhados com os demais, desde que, em horários diferenciados.

d) As instituições que atendem crianças na faixa etária de 0 a 3 anos devem possuir berços e colchonetes individuais, respeitando-se a distância de 30 cm entre eles e, das paredes.

RASCUNHO